

олимпиада по окружающему миру

«В царстве природы» (3 класс)

1. Живую природу делят на царства. Найдите несуществующее царство.
Растения, животные, грибы, бактерии, млекопитающие.

2. Представьте природу в виде сказочных царств. Кто, по вашему мнению, был бы царем в каждом из царств? Выберите соответствующую иллюстрацию.



3. Главное отличие человека от остальных животных – это наличие разума. Какую часть тела или орган можно назвать сосудом разума?

- А) желудок;
- Б) мозг;
- В) ноги.

4. Какая наука изучает связи между живыми существами и окружающей средой?

- А) биология;
- Б) экология;
- В) анатомия.

5. Найдите неверное утверждение.

- А) тело состоит из вещества;
- Б) вещество состоит из частиц;
- В) частица состоит из тел.

6. Если капнуть йод на продукт, содержащий это **вещество**, йод станет сине-фиолетовым. О каком веществе идет речь?

- А) соль;
- Б) сахар;

В) крахмал.

7. Какого газа в воздухе содержится больше всего?

А) кислород;

Б) азот;

В) углекислый газ.

8. Какое вещество составляет больше половины массы тел животных?

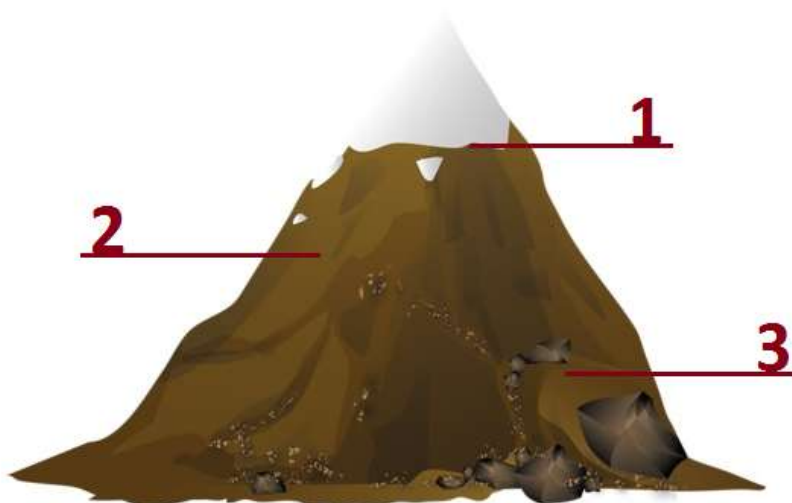
А) вода;

Б) воздух;

В) железо.

9. Как называется вода в газообразном состоянии?

10. Посмотрите на картинку. В какой области наиболее холодный воздух?



11. Соотнесите растение и группу, к которой оно принадлежит.

1	пион	водоросли	А
2	морская капуста	хвойные	Б
3	сосна	цветковые	В

12. Выберите верное утверждение.


А) растения поглощают кислород и выделяют углекислый газ;

Б) растения поглощают углекислый газ и выделяют кислород.

13. Посмотрите на иллюстрацию. Какие семена переносятся с помощью ветра?



14. Расположите этапы прорастания семени в правильном порядке.



15. Какие животные имеют мягкое тело, защищенное раковиной?

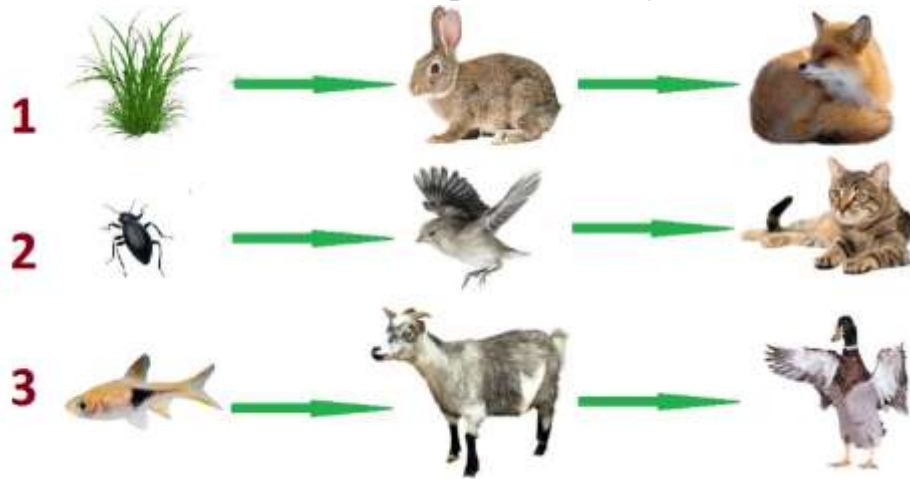
- А) рыбы;
- Б) моллюски;
- В) млекопитающие.



16. Животных можно разделить на группы по особенностям их питания. К какой группе относится человек?

- А) хищники;
- Б) растительноядные;
- В) всеядные.

17. Какая цепь питания содержит ошибку?



18. Каких животных в основном ловят хищники?

- А) самых сильных и здоровых;
- Б) больных и ослабленных;
- В) самых быстрых.