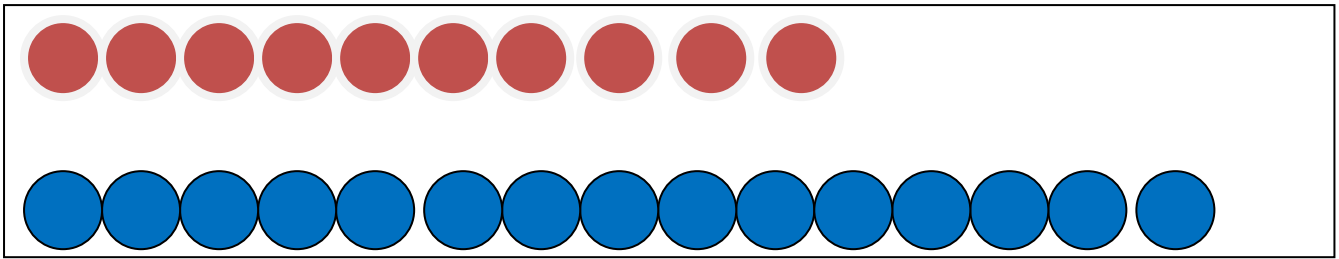



1. Реши задачу, используя рисунок.

За первую неделю около школы посадили 10 деревьев, за вторую ещё 15 деревьев. Сколько всего деревьев посадили за две недели?



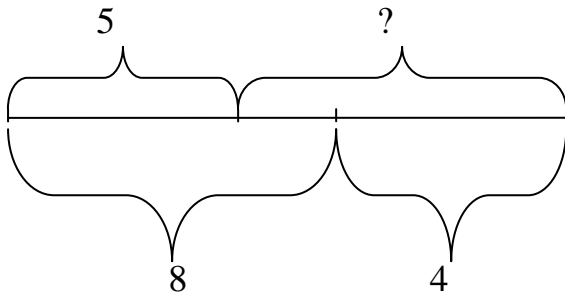
2. Реши задачу, используя рисунок.

На яблоне висело 6 яблок. Два яблока созрели и упали. Сколько яблок осталось на дереве?



3. Реши задачу разными способами, используя чертёж и краткую запись

Купили 8м красной ленты и 4м синей. Пять метров израсходовали на отделку платья. Сколько метров ленты осталось?



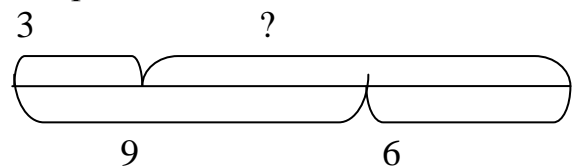
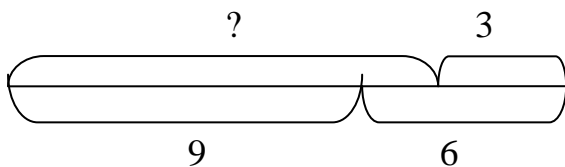
Было- $\left\{ \begin{array}{l} \text{К} - 8 \text{ м} \\ \text{С} - 4 \text{ м} \end{array} \right.$

Израсходовали - 5м


Осталось - ?

4. Реши задачу разными способами, используя схемы.

Для настила пола привезли 9 еловых досок и 6 сосновых. Сколько досок использовали для настила пола, если после работы осталось 3 доски?

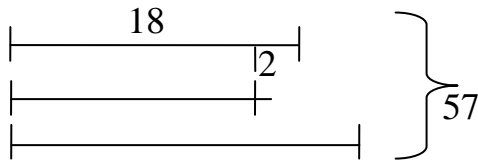


5. В кувшине было 10 стаканов молока. За ужином несколько стаканов выпили. Сколько стаканов молока выпили за ужином, если в кувшине осталось 3 стакана молока? Реши задачу, используя схему.



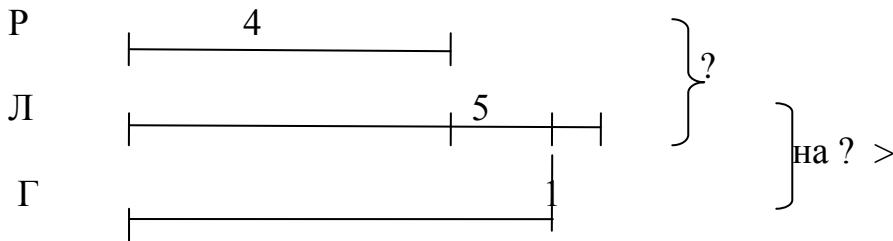
10

6. В трёх классах 57 человек. В первом 18 человек, во втором на 2 человека меньше, чем в первом классе. Сколько человек в третьем классе?



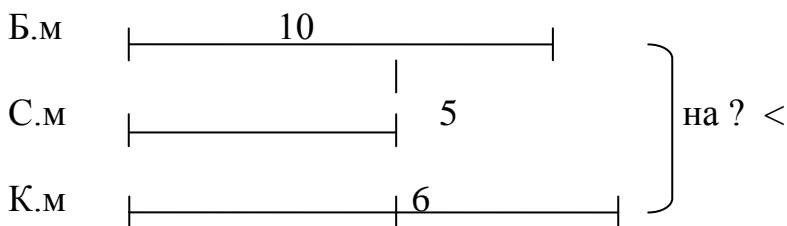
Запиши решение, используя схему - ()

7. В букете 4 розы, лилий на 5 больше, чем роз, а гвоздик на одну меньше, чем лилий. На сколько больше роз и лилий, чем гвоздик?



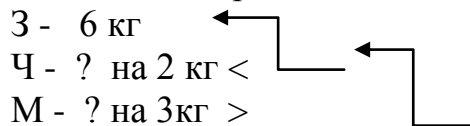
Запиши решение задачи, используя схему.

8. В гараже стояло 10 белых машин, синих на 5 меньше, чем белых, а красных машин на 6 больше, чем синих. На сколько меньше белых машин стояло в гараже, чем красных?




Запиши решение задачи, используя схему.

9. Дети собрали 6 кг. земляники, черники на 2 кг. меньше, а малины на 3 кг. больше, чем черники. Сколько килограммов малины собрали?



Запиши решение задачи, используя краткую запись.

10. Строители построили за год 16 домов: 2 одноэтажных, 9 двухэтажных, а остальные трёхэтажные. Сколько трёхэтажных домов построили строители?



11. С горки домой ушли 8 мальчиков, а 6 мальчиков остались кататься. Сколько мальчиков было на горке?

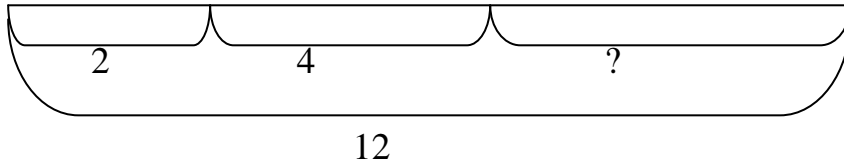
Было - ?

Ушли - 8

Осталось - 6

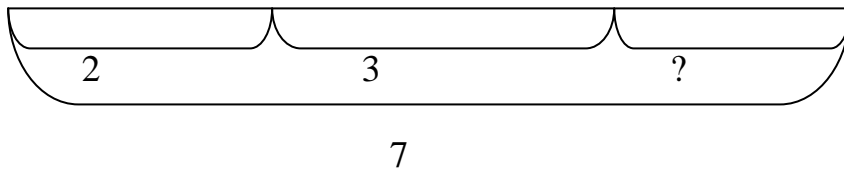
Запиши решение.

12. На огороде было 12 грядок овощей. С горохом 2 грядки, с фасолью 4 грядки, а остальные грядки с бобами. Сколько грядок с бобами было на огороде?



Запиши решение задачи, используя схему.

13. В отделе магазина было 7 бытовых приборов: 2 телевизора, 3 видеоплеера и несколько магнитофонов. Сколько магнитофонов было в отделе?

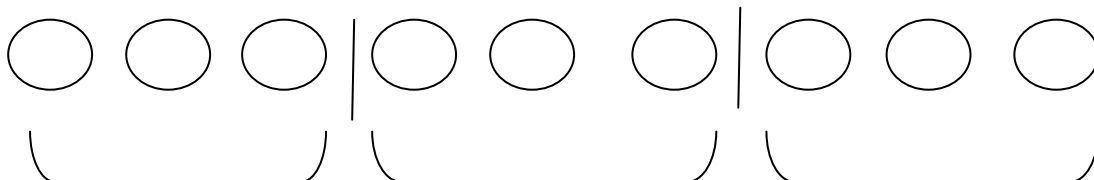


14. Витрину магазина украшают 9 кукол, а машинок в 2 раза больше. Сколько машинок украшают витрину?

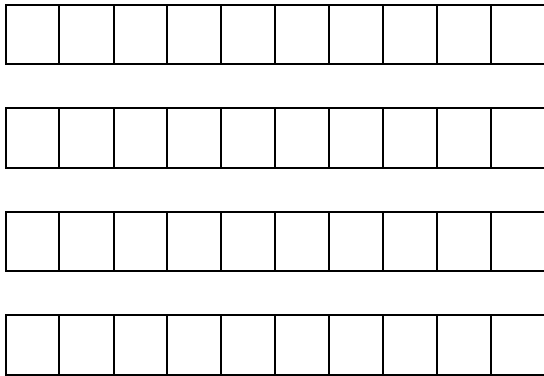
Реши задачу, используя картинку.



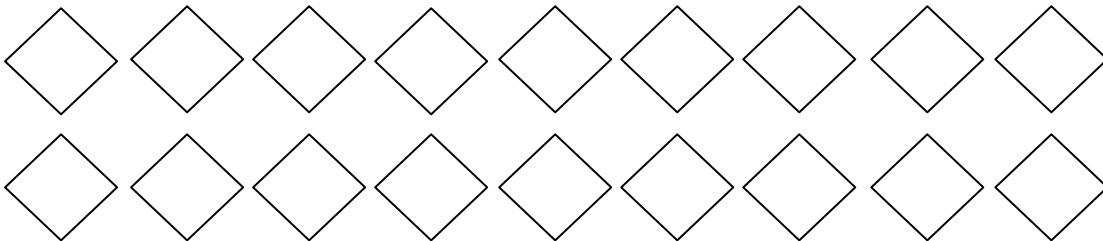
15. 9 килограммов картофеля разложили в пакеты по 3 кг в каждый. Сколько потребовалось пакетов? Запиши решение задачи, используя рисунок.



16. В одной пачке 10 штук печенья. Сколько штук печенья в 4 таких пачках?
Запиши решение задачи, используя рисунок.

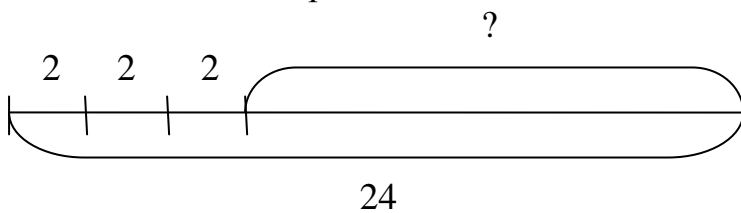


17. 18 карандашей разложили в 2 коробки поровну. Сколько карандашей в каждой коробке?



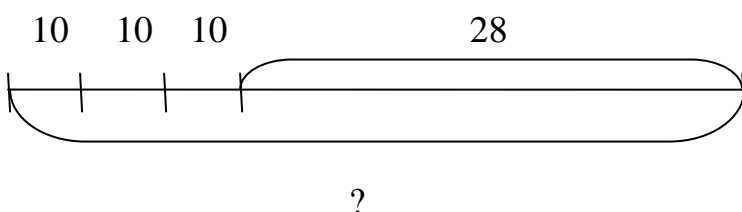
Используя рисунок, запиши решение задачи.

18. В бидоне 24 литра молока. Трём покупателям из него налили по 2 литра молока. Сколько литров молока осталось в бидоне?



Используя схему, запиши решение задачи.

19. В школьной мастерской 3 дня ремонтировали по 10 парт ежедневно. Осталось отремонтировать ещё 28 парт. Сколько парт должна была отремонтировать мастерская? Запиши решение задачи.



20. Доярка надоила 50 литров молока. Из них 10 литров она отдала для кормления телят, а остальное молоко разлила в 4 одинаковых бидона. Сколько литров молока наливала доярка в один бидон?

